

Comparaison de nombres de 0 à 50

1 Relie les étiquettes comme dans l'exemple.

vingt quatre	$40+7$	$10+9$	trente cinq
$30+5$	dix-neuf	$20+8$	quarante sept
vingt huit	$20+4$	trente deux	$30+2$

2 Ecris en chiffres ou en lettres.

10 dix

31 _____

_____ vingt sept

23 _____

_____ trente quatre

_____ quarante cinq

49 _____

_____ dix-huit

37 _____

_____ vingt trois

3 Complète.

Nombre avant	Nombre	Nombre après
	40	
	31	
	27	
	35	
	49	

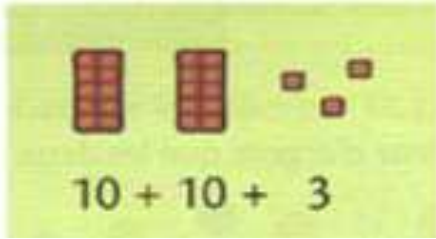
4 Range les nombres du plus grand au plus petit.

42 27 33 18 30 47 29

....
------	------	------	------	------	------	------

Dizaines et unités 2

1 **Complète et écris** le nombre de carrés de chocolat.



dizaines	unités
2	3



2 **Écris** la somme.



3 **Écris** les nombres qui manquent.



$$\dots = 30 + \dots$$




$$\dots = \dots + 4$$



$$\dots = \dots + \dots$$

3 **Écris** le nombre qui manque et **dessine** le avec des billets et des pièces.



$$\dots = 20 + 8$$




$$\dots = 30 + 4$$



$$\dots = 60 + 1$$

Dizaines et unités 3

1 Compte en groupant par 10.



2 Complète les tableaux.

23	2d 3u
36	
12	
40	

	2d 5u
	3d 0u
	2d 2u
	4d 7u

3 Entoure en rouge le chiffre des dizaines et en bleu celui des unités.

32


25

15

40


9

4 Complète.



Dizaines et unités 4


1 Compte en groupant par 10.



dizaines	unités



2 Échange 10 unités contre 1 dizaine

Entoure les unités par 10



Dessine l'échange

Complète le tableau

Dizaines	unités
	

Il y dizaines et
..... unités.

2 Complète le tableau.

42	40+2	4 dizaines et 2 unités	quarante-deux
38 dizaines etunités
.....	50+1 dizaines etunités
.....	6 dizaines et 4 unités
..... dizaines etunités	vingt sept

3 Complète les phrases en t'aidant du tableau.

Dans 47, le chiffre des unités est

Dans 28, le chiffre des dizaines est

Dans 35, le chiffre des unités est

Dans 19, le chiffre des dizaines est

dizaines	unités