


Séquence 104 page 134

conseils et correction

calcul mental : 1. compteur en remplissant une planche des nombres vides

58	+1	59	+10	69	+1	70	+10	80	-5	75	+10	85	-4	81	+10	94	+4	98	-10	88
----	----	----	-----	----	----	----	-----	----	----	----	-----	----	----	----	-----	----	----	----	-----	----

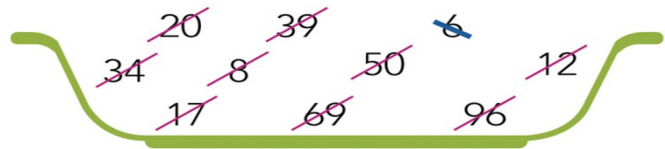
2. dictée de nombres 80 à 99 (bien écouter le deuxième nombre pour savoir s'il y a une dizaine de plus ou non)



Leçon : les nombres 80 à 99 Barrer les nombres au fur et à mesure qu'ils sont placés

On a commencé à ranger les nombres du plus petit au plus grand.

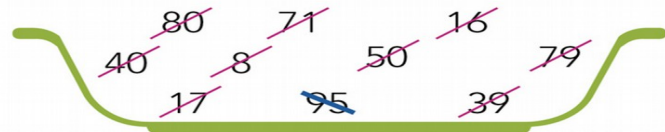
Continue.



6	8	12	17	20	34	39	50	69	96
---	---	----	----	----	----	----	----	----	----

On a commencé à ranger les nombres du plus grand au plus petit.

Continue.



95	80	79	71	50	40	39	17	16	8
----	----	----	----	----	----	----	----	----	---

Dessine en utilisant le moins de billets et de pièces possible.



Calcule. Si tu peux, écris directement le résultat sur la deuxième ligne.

$$17 + 36 = 10 + 7 + 30 + 6$$

$$= 53$$

$$52 + 38 = 52 + 30 + 8$$

$$= 90$$

